

ตัวอย่างข้อสอบ

1. ให้พิจารณาจากตัวเลขที่กำหนดว่ามีการเปลี่ยนแปลงค่าตัวเลขแต่ละตัว โดยระบบใด และค่าของตัวเลข

ที่อยู่ตรง มีค่าเท่าใด

1, 7, 13, 19, = ?

ก. 21

ข. 23

ค. 25

ง. 27

2. ในการสอบวิชาวิทยาศาสตร์ ต้นไม้คะแนนมากกว่าต่อ แต่ยังมีน้อยกว่า แต้ม ขณะที่ตาลได้คะแนนมากกว่า

แต้ม ใครคือคนที่ได้คะแนนสอบมากที่สุด

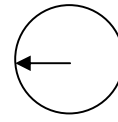
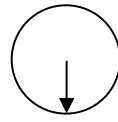
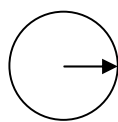
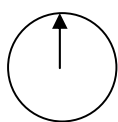
ก. ต้น

ข. ต่อ

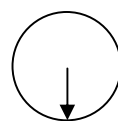

ค. แต้ม

ง. ตาล

3. จากลำดับรูปต่อไปนี้ รูปใดเป็นรูปถัดไป



?



n. ←

u.

